











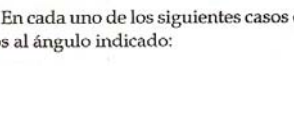





## EJERCICIOS DEL CAPÍTULO 14

### Medición angular (Goniometro)

Anote en el número que corresponda el valor de la lectura indicada.

 <p style="text-align: center;">1</p>	 <p style="text-align: center;">2</p>	<p style="text-align: center;">1</p> <input style="width: 50px; height: 20px;" type="text"/>
 <p style="text-align: center;">3</p>	 <p style="text-align: center;">4</p>	<p style="text-align: center;">2</p> <input style="width: 50px; height: 20px;" type="text"/>
 <p style="text-align: center;">5</p>	 <p style="text-align: center;">6</p>	<p style="text-align: center;">3</p> <input style="width: 50px; height: 20px;" type="text"/>
 <p style="text-align: center;">7</p>	 <p style="text-align: center;">8</p>	<p style="text-align: center;">4</p> <input style="width: 50px; height: 20px;" type="text"/>
 <p style="text-align: center;">9</p>	 <p style="text-align: center;">10</p>	<p style="text-align: center;">5</p> <input style="width: 50px; height: 20px;" type="text"/>
 <p style="text-align: center;">11</p>	 <p style="text-align: center;">12</p>	<p style="text-align: center;">6</p> <input style="width: 50px; height: 20px;" type="text"/>
 <p style="text-align: center;">13</p>	 <p style="text-align: center;">14</p>	<p style="text-align: center;">7</p> <input style="width: 50px; height: 20px;" type="text"/>
 <p style="text-align: center;">15</p>	 <p style="text-align: center;">16</p>	<p style="text-align: center;">8</p> <input style="width: 50px; height: 20px;" type="text"/>
<p style="text-align: center;">17</p>	<p style="text-align: center;">18</p>	<p style="text-align: center;">9</p> <input style="width: 50px; height: 20px;" type="text"/>
<p style="text-align: center;">19</p>	<p style="text-align: center;">20</p>	<p style="text-align: center;">10</p> <input style="width: 50px; height: 20px;" type="text"/>
<p style="text-align: center;">21</p>	<p style="text-align: center;">22</p>	<p style="text-align: center;">11</p> <input style="width: 50px; height: 20px;" type="text"/>
<p style="text-align: center;">23</p>	<p style="text-align: center;">24</p>	<p style="text-align: center;">12</p> <input style="width: 50px; height: 20px;" type="text"/>

En cada uno de los siguientes casos determine la altura de bloques patrón necesaria para colocar una regla de senos al ángulo indicado: